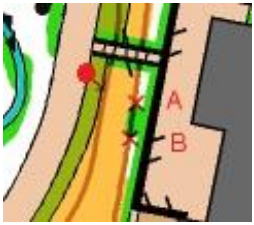




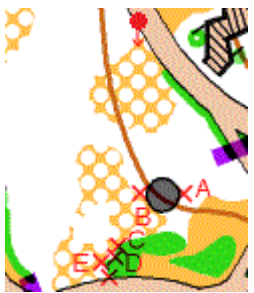







しあわせの村・やさしいトレイルオリエンテーリング大会（2020.10.25）

Nクラス 正解表

No.	フラッグの数	地図 位置説明	正解	写真	DP および 回答のポイント
1	A-B	 やぶ（植込み）、南側	B		DP: 道の東側（進行方向に対して左側）にある階段を過ぎた辺り  ・フラッグは植込みの南側と北側にある
2	A-C	 細い植込みの曲がり	B		DP: 階段付近にある  ・細い植込みがどれか特定する（階段の上端から始まっている） ・Aのフラッグは左側のやぶの南側
3	A-D	 やぶとやぶの間	B		DP: 建物の西側にあるやぶ（植込み）を確認する  ・2つのやぶ（植込み）の間にあるフラッグ
4	A-E	 建物（時計塔）、西側、北から見る	B		DP: 「北から見る」の説明で、時計塔の北側の道にある  ・時計塔を確認する ・北から見ているので右側が西にあたる
5	A-D	 小径、西の始まり、南西から見る	C		DP: 「南西から見る」で西側の道路に行く。柵のある池付近にある  ・小径はわかりにくい ・遠くにあるフラッグ（B）との位置関係に注意

No.	フラッグの数	地図 位置説明	正解	写真	DP および 回答のポイント
6	A-C	 フェンス、南東の角	A	 <写真は北東から見たもの>	DP: コントロール円に向かう道  ・道を移動してフェンスの角を確認する (B、Cはフェンスの角ではなく曲がり)
7	A-E	 岩、高さ1m、北側、北から見る	C		DP: 「北から見る」でコントロールの北側の道路にある  ・岩の北側(手前)にあるフラッグ やぶ(植込み)が西側にある

<No.>

コントロール番号といい、回る順序を示す。

<地図>

● ディジョンポイント (DP) の位置

× フラッグの位置 (DP からみて左から順に A、B、C・・・)

競技用の地図には DP 及びフラッグの位置は記載されない。ただし、今回は DP とフラッグを見る方向を赤矢印で表記した。

<写真>

DP から見た写真 (No.6 を除く)

～ 実際の地図と見くらべながら、思い出してください ～